

Ime in Priimek : _____

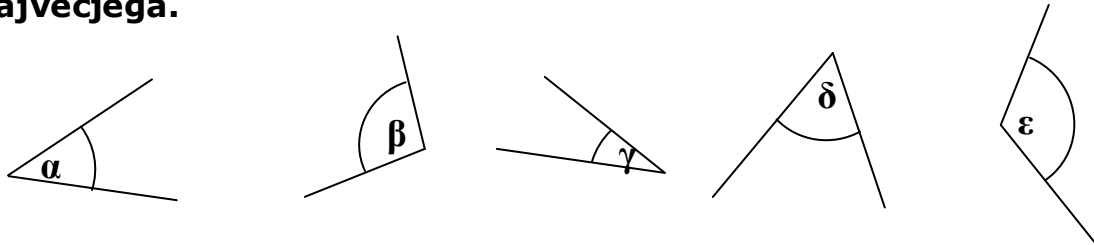
Datum : _____

www.otroci.org

Otrokom in staršem prijazna
stran na internetu

PRIMERJANJE KOTOV

1. a) Oceni velikosti kotov in jih uredi po velikosti od najmanjšega do največjega.



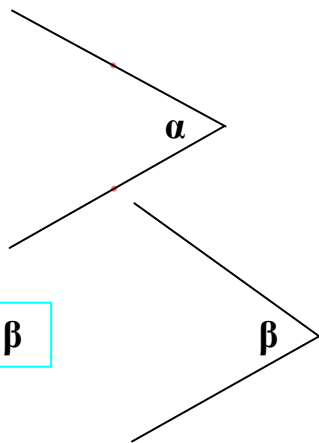
b) Dane kote uredi po velikosti.

α – pravi kot, β – topi kot, γ – iztegnjeni kot, δ – ostri kot,
 ε – polni kot, φ – kot nič

2. Nariši ostre kote α , β in γ tako, da bo veljalo: $\alpha > \beta$ in $\alpha < \gamma$.

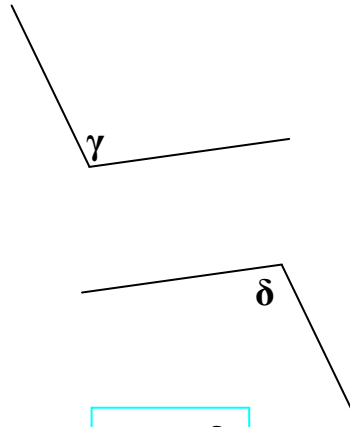
3. Primerjaj velikosti kotov s šestilom. Zapiši ugotovitev.

a)



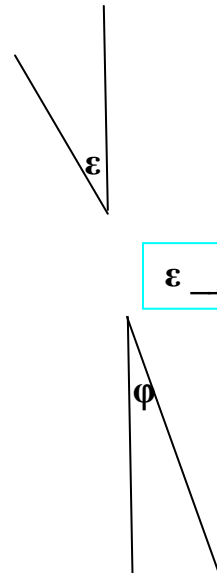
α ___ β

b)



γ ___ δ

c)



ε ___ φ

VSEH 100 UČNIH LISTOV IZ PREDMETA MATEMATIKA ZA 6. RAZRED, SKUPAJ Z ODGOVORI, VAM JE NA VOLJO V NAŠI TRGOVINI. ZA NAROČILO OBIŠČITE <http://trgovina.otroci.org>

© Stran za Otroke <http://www.otroci.org> – Vse pravice pridržane. Izdelek je avtorsko delo in je zaščiteno z zakonom o avtorskih pravicah. Nepooblaščen kopiranje in uporaba v komercialne namene je PREPOVEDANA. Avtor TANJA ŽGEČ. POZOR! Učni listi so namenjeni samo kot pomoč pri utrjevanju že osvojenega znanja in ne nadomeščajo klasičnega učenja v osnovni šoli. Za eventualne slabe ocene in napake pri izdelavi učnih listov ne odgovarjamo. Uporaba na lastno odgovornost.